



CONCURSO PÚBLICO Nº 01/2014  
AGOSTO DE 2014

**CADERNO DE PROVA ESCRITA**

**CARGO: AGENTE DE SERVIÇOS GERAIS**

<u>Nº de Inscrição</u>	<u>Nome do Candidato</u>

**INSTRUÇÕES**

\* PREENCHA A TABELA ACIMA COM SEU NÚMERO DE INSCRIÇÃO E NOME COMPLETO

\* A duração da prova será de 03 horas, compreendidas entre 09:00 hs às 12:00 hs.

I - Para fazer a prova você usará:

- a) Este caderno de prova;
- b) Um cartão-resposta.

II - O caderno de prova conterá 25 questões de múltipla escolha com até cinco alternativas (“a” a “e”), sendo:

Questões de nº 01 à 05 – Língua Portuguesa

Questões de nº 06 à 10 - Conhecimentos Gerais

Questões de nº 11 à 25 - Conhecimentos Específicos

III - As questões deverão ser elaboradas no caderno de prova e após, transferidas ao CARTÃO RESPOSTA, onde você deverá preencher o espaço quadriculado, que representa a resposta da questão, com **caneta esferográfica azul ou preta**.


IV - O CARTÃO RESPOSTA não poderá ser rasurado, sob pena de desclassificação do Concurso. O candidato deverá preencher no CARTÃO RESPOSTA seu nome no espaço destinado para esta finalidade.

V - Ao concluir a prova, o candidato deve entregar ao fiscal o caderno de prova completo, juntamente com o CARTÃO RESPOSTA.

VI - Durante a prova, não se admite que o candidato se comunique com outros candidatos, efetue empréstimos ou pratique atos contra as normas ou a disciplina. Utilize o verso do caderno de prova como rascunho. Não é permitido o uso de calculadoras ou quaisquer outros aparelhos eletrônicos. A fraude, indisciplina, e o desrespeito aos fiscais são faltas que eliminam o candidato.

Boa prova!

**ESTADO DE SANTA CATARINA**  
**PREFEITURA MUNICIPAL DE SÃO MARTINHO**





---

---

*Língua Portuguesa*

---

---

1) Na modalidade escrita, indicamos a divisão silábica com o hífen. Esta separação obedece às regras de silabação. Analise as frases e escreva **V** para verdadeiro e **F** para falso.

- ( ) Não se separam as letras que representamos todos os dígrafos.
- ( ) Devemos separar os encontros consonantais que iniciam sílaba.
- ( ) Não se separam as letras com que representamos os ditongos.
- ( ) Se separa a consoante inicial seguida de outra consoante.
- ( ) Separam-se as letras com que representamos os hiatos.

A sequência correta de cima para baixo é:

- a) V, V, F, F, V.
- b) F, F, V, V, F.
- c) V, F, V, V, V.
- d) F, V, V, V, V.
- e) F, F, V, F, V.

---

---

2) Os substantivos uniformes dividem-se em substantivos epicenos, sobre-comuns e comuns de dois gêneros. Analise os substantivos e assinale a alternativa incorreta:

- a) A cobra, o tatu, o tigre, o condor, o besouro. (substantivos epicenos)
- b) O apóstolo, o cônjuge, a criatura, o ser, o verdugo. (substantivos sobrecomuns)
- c) O acrobata, o cliente, o democrata, o jovem, o mártir. (substantivos comuns de dois gêneros)
- d) O ente, o indivíduo, o carrasco, o algoz, o verdugo. (substantivos epicenos)
- e) O estudante, o artista, o agente, o colegial, o camarada. (substantivos comuns de dois gêneros)

---

---

3) Dependendo da classe morfológica em que ocupam as palavras **meio** ou **meia** podem variar de acordo com o contexto. Assinale a frase incorreta:

- a) Não me venha com meias verdades!
- b) Era meio-dia e meio.
- c) A gaveta está meio fechada.
- d) Gabriela está meio nervosa.
- e) Maria tomou meia taça de champanhe.

---

---

4) Assinale a alternativa correta indicando qual é a 1ª pessoa do singular:

- a) Ele.
  - b) Nós.
  - c) Vós.
  - d) Eu.
  - e) Eles.
- 
-



**ESTADO DE SANTA CATARINA**  
**PREFEITURA MUNICIPAL DE SÃO MARTINHO**

5) Quanto à ortografia das palavras escreva V para verdadeiro e F para falso:

- ( ) Deslizar, anteislâmico, frisar, lisonjeador, luxúria.
- ( ) Frisar, arritmia, superinteressante, duquesa, enxurrada.
- ( ) Enxaqueca, consciência, jeito, supraexcitação, quisesse.
- ( ) Enxalmo, caxinguelê, pesadelo, jinga, bazar.
- ( ) Rescisão, canjica, manjericão, cachimbo, traje.

Assinale a sequência correta:

- a) F, V, F, V, F.
- b) V, V, V, V, V.
- c) F, F, F, F, F.
- d) V, F, V, F, V.
- e) V, V, F, F, V.

---

---

*Conhecimentos Gerais*

---

---

6) Assinale a alternativa que indica corretamente os *Países da América do Sul* e suas respectivas capitais:

a)

<i>País</i>	<i>Capital</i>
Bolívia	La Paz
Suriname	Paramaribo
Equador	Bogotá

b)

<i>País</i>	<i>Capital</i>
Venezuela	Caracas
Brasil	Brasília
Guiana Francesa	Georgetown

c)

<i>País</i>	<i>Capital</i>
Paraguai	Assunção
Guiana	Caiena
Colômbia	Ibagué

d)

<i>País:</i>	<i>Capital:</i>
Chile	Concepción
Peru	Lima
Venezuela	Barcelona

e)

<i>País</i>	<i>Capital</i>
Argentina	Buenos Aires
Guiana Francesa	Caiena
Equador	Quito

---

---

**ESTADO DE SANTA CATARINA**  
**PREFEITURA MUNICIPAL DE SÃO MARTINHO**



- 7) Assinale a alternativa correta sobre os elementos que compõem a bandeira do Estado de Santa Catarina:
- a) Barrete Frígido é um dos símbolos da Revolução Italiana utilizado na bandeira do estado de Santa Catarina destacado por ser usada pelos camponeses italianos.
  - b) O Ramo de Café e o Ramo de Trigo representam a lavoura do oeste catarinense.
  - c) Na Estrela há a data da implantação da República em Santa Catarina, sendo em 17 de novembro de 1889.
  - d) A Chave recorda o objeto estratégico perdido quando ocorreu a guerra do Contestado.
  - e) Todas as alternativas estão corretas.

- 
- 8) Assinale a alternativa que corresponde ao Governador que tornou o hino do Estado de Santa Catarina oficial:
- a) Lauro Müller
  - b) Hercílio Luz
  - c) Vidal Ramos
  - d) Colombo Machado
  - e) Filipe Schmidt

- 
- 9) Assinale a alternativa correta. Paulo trabalha em um escritório de advocacia 9 horas diárias. Sabendo-se que a semana de serviço é de 5 dias, ao final dessa semana, quantas horas ele trabalhará:
- a) 54h
  - b) 45h
  - c) 44h
  - d) 55h
  - e) 40h

- 
- 10) Assinale a alternativa correta. André fez uma viagem de carro partindo de São Paulo-SP às 8h15min, chegando no Rio de Janeiro-RJ às 10h36min. Quanto tempo demorou essa viagem:
- a) 2h26mim
  - b) 2h
  - c) 3h03mim
  - d) 2h16mim
  - e) 2h21mim

---

*Conhecimentos Específicos*

---

- 11) Assinale a alternativa correta referente ao número telefônico do Corpo de Bombeiros:
- a) 193
  - b) 192
  - c) 190
  - d) 198
  - e) 194
-

**ESTADO DE SANTA CATARINA**  
**PREFEITURA MUNICIPAL DE SÃO MARTINHO**



12) Assinale a alternativa correta. Equipamento utilizado para proteção das vias respiratórias:

- a) Boné.
- b) Avental.
- c) Luvas.
- d) Bota de borracha.
- e) Máscaras.

---

---

13) Analise as afirmativas. São EPI's utilizados para conservação e limpeza:

- I. Óculos de proteção.
- II. Luvas de látex.
- III. Calçado de segurança.
- IV. Avental impermeável.

Assinale a alternativa correta.

- a) Estão corretas apenas as afirmativas I e III.
- b) Estão corretas apenas as afirmativas II, III e IV.
- c) Estão corretas apenas as afirmativas III e IV.
- d) Estão corretas apenas as afirmativas II e IV.
- e) Todas as afirmativas estão corretas.

---

---

14) Assinale a alternativa correta. Qual material usado para proteção dos olhos contra agentes químicos, agentes físicos (radiação ultravioleta) e risco de acidentes:

- a) Máscaras respiratórias.
- b) Óculos de proteção.
- c) Protetor facial.
- d) Botas de PVC.
- e) Nenhuma das alternativas estão corretas.

---

---

15) Assinale a alternativa correta. Qual é o equipamento utilizados para proteger as mãos, braços e antebraços dos trabalhadores contra os riscos que podem existir nos ambientes de trabalho.

- a) Luvas.
- b) Máscaras respiratórias.
- c) Avental.
- d) Uniforme impermeável.
- e) Protetor facial.

---

---

16) Assinale a alternativa correta. São ações de higiene pessoal:

- a) Conservar as unhas curtas e limpas.
  - b) Tomar banho mensalmente.
  - c) É necessário lavar as mão apenas após ir ao banheiro.
  - d) Ter a carteira de vacinação desatualizada.
  - e) Escovar os dentes uma vez ao dia.
- 
-

**ESTADO DE SANTA CATARINA**  
**PREFEITURA MUNICIPAL DE SÃO MARTINHO**



17) Analise as afirmativas. Nas áreas externas o lixo deve ser colocado em local:

- I. Em lugares altos para evitar contato com roedores e outros animais.
- II. Protegido da chuva e do sol.
- III. separados por tipo de lixo.
- IV. Em recipientes fechados, de fácil limpeza.

Assinale a alternativa correta:

- a) Estão corretas apenas as afirmativas I e III.
- b) Estão corretas apenas as afirmativas II, III e IV.
- c) Estão corretas apenas as afirmativas III e IV.
- d) Estão corretas apenas as afirmativas II e IV.
- e) Todas as afirmativas estão corretas.

---

---

18) Assinale a alternativa que corresponde a cor onde se armazenam os lixos orgânicos:

- a) Verde.
- b) Amarelo.
- c) Marrom.
- d) Azul.
- e) Preto.

---

---

19) Analise as afirmativas. São considerados princípios básicos de limpeza:

- I. Utilizar equipamento de proteção individual (EPI).
- II. Iniciar uma limpeza do ambiente menos contaminado para o mais contaminado.
- III. Todo material usado para limpeza deverá ser limpo e guardado em local apropriado.

Assinale a alternativa correta:

- a) Está correta apenas a afirmativa I.
  - b) Está correta apenas a afirmativa II.
  - c) Está correta apenas a afirmativa III.
  - d) Todas as afirmativas estão corretas.
  - e) Nenhuma das afirmativas estão corretas.
- 
-


**ESTADO DE SANTA CATARINA**  
**PREFEITURA MUNICIPAL DE SÃO MARTINHO**



20) Assinale a alternativa que corresponde ao desenho de um alicate:



21) Assinale a alternativa que corresponde a ferramenta usada para o plantio:





**ESTADO DE SANTA CATARINA**  
**PREFEITURA MUNICIPAL DE SÃO MARTINHO**



22) Analise as afirmativas. São as principais causas de acidentes com ferramentas:

- I. Ferramenta imprópria para o serviço.
- II. Uso incorreto da ferramenta.
- III. Má conservação da ferramenta.


Assinale a alternativa correta:

- a) Está correta apenas a afirmativa I.
- b) Está correta apenas a afirmativa II.
- c) Está correta apenas a afirmativa III.
- d) Todas as afirmativas estão corretas.
- e) Nenhuma das afirmativas estão corretas.

---

---

23) Assinale a alternativa que corresponde a imagem de uma vassoura:



---

---

24) Assinale a alternativa que corresponde a cor onde se armazenam os lixos de papel:

- a) Azul.
- b) Roxo.
- c) Preto.
- d) Verde.
- e) Vermelho.

---

---

25) Assinale a alternativa que corresponde a cor onde se armazenam os lixos de metal:

- a) Amarelo.
  - b) Verde.
  - c) Vermelho.
  - d) Branco.
  - e) Azul.
- 
-